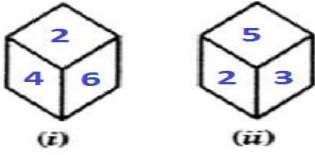


CGL 04/06/2019 (Evening)

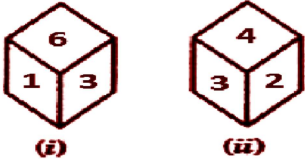


- (a) 3 (b) 6 (c) 5 (d) 1

Q15. Two different positions of the same dice are shown. Which number will be at the top if 1 is at the bottom?

एक ही पासे की दो अलग-अलग स्थितियां दी गयी हैं। यदि तल पर 1 है, तो शीर्ष पर कौन सी संख्या होगी?

CGL 06/06/2019 (Morning)

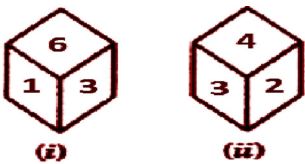


- (a) 4 (b) 2 (c) 6 (d) 5

Q16. Two different positions of the same dice are shown. Which number will be at the top if 1 is at the bottom?

एक ही पासे की दो अलग-अलग स्थितियां दी गयी हैं। यदि तल पर 1 है, तो शीर्ष पर कौन सी संख्या होगी?

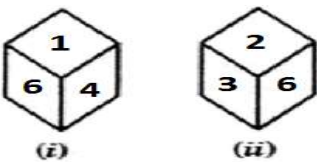
CGL 06/06/2019 (Afternoon)



Q17. Two rotated positions of a dice are given below. Which number will be at the top if the number 1 is at the bottom of the dice?

एक पासे की दो आवर्तित अवस्थाएं दी गयी हैं। शीर्ष पर कौन सी संख्या होगी यदि तल पर 1 है ?

CGL 06/06/2019(Evening)



- (a) 2 (b) 6 (c) 3 (d) 5

Q18. Two rotated positions of a dice are given below. Which number will be at the top if the number 4 is on the bottom of the dice?

एक पासे की दो आवर्तित अवस्थाएं दी गयी हैं। शीर्ष पर कौन सी संख्या होगी यदि तल पर 4 है ?

CGL 07/06/2019 (Morning)

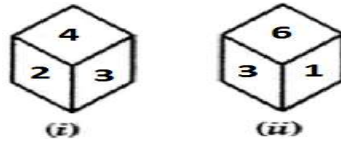


- (a) 6 (b) 2 (c) 1 (d) 4

Q19. Two different positions of the same dice are shown. Which number will be at the top when 6 will be at the bottom?

एक ही पासे की दो अलग-अलग अवस्थाएं दिखाई गयी हैं। यदि तल पर 6 है, तो शीर्ष पर कौन सी संख्या होगी ?

CGL 07/06/2019(Afternoon)

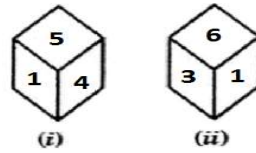


- (a) 5 (b) 3 (c) 4 (d) 2

Q20. Two different positions of the same dice are given. Which number will be at the top when 3 will be at the bottom?

एक ही पासे की दो अलग-अलग अवस्थाएं दिखाई गयी हैं। यदि तल पर 3 है, तो शीर्ष पर कौन सी संख्या होगी ?

CGL 07/06/2019(Evening)

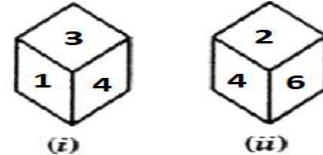


- (a) 1 (b) 2 (c) 5 (d) 4

Q21. Two different positions of the same dice are shown below. Which number will be at the top if 5 is at the bottom?

एक ही पासे की दो अलग-अलग अवस्थाएं दिखाई गयी हैं। यदि तल पर 5 है, तो शीर्ष पर कौन सी संख्या होगी ?

CGL 10/06/2019 (Morning)

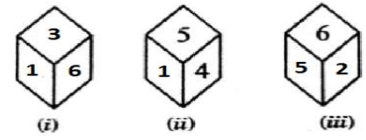


- (a) 6 (b) 4 (c) 2 (d) 3

Q22. Three different positions of a dice are shown below. Which number will appear on the face opposite number 3?

एक ही पासे की तीन अलग-अलग अवस्थाएं दिखाई गयी हैं। संख्या 3 के विपरीत फलक पर कौन सी संख्या होगी ?

CGL 10/06/2019(Afternoon)



- (a) 5 (b) 6 (c) 2 (d) 4

Q23. Three different positions of a dice are shown below. Which number will appear on the face opposite number 4 ?

एक पासे की तीन अलग-अलग अवस्थाएं दिखाई गयी हैं। संख्या 4 के विपरीत फलक पर कौन सी संख्या आएगी ?

CGL 10/06/2019(Evening)



- (a) 3 (b) 2 (c) 6 (d) 5

Q24. Three different positions of a dice are shown below. Which number will appear on the face opposite number 6?

एक पासे की तीन अलग-अलग अवस्थाएं दिखाई गयी हैं। संख्या 6 के विपरीत फलक पर कौन सी संख्या आएगी ?

CGL 11/06/2019 (Morning)

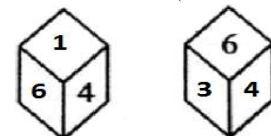


- (a) 1 (b) 2 (c) 4 (d) 5

Q25. Two different positions of a dice are shown below. Which number will appear on the face opposite number 1?

एक पासे की दो अलग-अलग अवस्थाएं दिखाई गयी हैं। संख्या 1 के विपरीत फलक पर कौन सी संख्या होगी ?

CGL 11/06/2019(Afternoon)

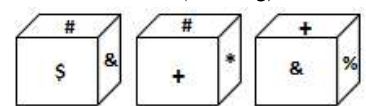


- (a) 2 (b) 4 (c) 3 (d) 5

Q26. Three different positions of a dice are shown below. Which number will appear on the face opposite number * ?

एक पासे की तीन अलग-अलग अवस्थाएं दिखाई गयी हैं। '*' के विपरीत फलक पर कौन सा प्रतीक आएगा ?

CGL 11/06/2019 (Evening)



- (a) & (b) + (c) % (d) #

Q27. Three different positions of the same dice are shown. Which number